

피산자
공



초등 연산의 모든 것

연산

초등 수학 2-2

구성과 특징




1일차

학습 주제별 연산 문제를 풍부하게 제공합니다.

주제별 알아야 하는 개념을 살펴봐요.

많은 문제로 연산을 연습해요.

01 일차 1. 천, 몇천 알아보기



100이 10개인 수
쓰기 1000 읽기 천

1000이 4개인 수
쓰기 4000 읽기 사천

안에 알맞은 수나 말을 써넣으세요.

1 990보다 10만큼 더 큰 수는 1000이고, 이라고 읽습니다.

2 1000이 3개인 수는 입니다.
1000이 *개인 수는 *000이예요!

3 1000이 6개인 수는 입니다.

4 은 999보다 1만큼 더 큰 수입니다.

5 995보다 5만큼 더 큰 수는 입니다.

6 980보다 20만큼 더 큰 수는 입니다.

7 1000은 900보다 만큼 더 큰 수입니다.

8 950보다 만큼 더 큰 수는 1000입니다.

9 100이 개인 수는 1000이고, 이라고 읽습니다.

10 700보다 300만큼 더 큰 수는 이고, 이라고 읽습니다.

11 1000이 9개인 수는 이고, 이라고 읽습니다.

12 8000은 1000이 개이고, 이라고 읽습니다.

학습 날짜: 월 일 정답 2쪽

수를 읽어 보세요.

13 2000
읽기 ()

14 6000
읽기 ()

15 1000
읽기 ()

16 7000
읽기 ()

17 8000
읽기 ()

18 4000
읽기 ()

19 5000
읽기 ()

수를 써 보세요.

20 구천
쓰기 ()

21 육천
쓰기 ()

22 오천
쓰기 ()

23 칠천
쓰기 ()

24 삼천
쓰기 ()

25 사천
쓰기 ()

26 이천
쓰기 ()

맞힌 개수	나의 학습 결과에 표하세요.			
맞힌 개수	0~3개	4~13개	14~23개	24~26개
개 / 26개	학습 방법 다시 한번 읽어 보요.	계산 연습이 필요해요.	틀린 문제를 확인해요.	실수하지 않도록 집중해요.

QR: 정답 확인

1. 네 자릿수 9

학습 결과를 스스로 확인해요.

QR로 간편하게 정답을 확인해요.

🍪 풍산자 연산은

1. 많은 문제로 연산 실력을 향상시킵니다.
2. 주제를 세분화하여 체계적으로 학습합니다.
3. 연산 in 문장제로 문해력을 향상시킵니다.



차례



1

네 자리 수

1. 천, 몇천 알아보기	8
2. 네 자리 수 알아보기	12
3. 각 자리의 숫자가 나타내는 값 알아보기	16
4. 뛰어 세기	20
5. 두 수의 크기 비교	26
6. 세 수의 크기 비교	30
연산&문장제 마무리	34

2

곱셈구구

1. 2단 곱셈구구	38
2. 3단 곱셈구구	42
3. 4단 곱셈구구	46
4. 5단 곱셈구구	50
5. 6단 곱셈구구	54
6. 7단 곱셈구구	58
7. 8단 곱셈구구	62
8. 9단 곱셈구구	66
9. 2~9단 곱셈구구	70
10. 1단 곱셈구구와 0의 곱	76
11. 곱셈표	80
연산&문장제 마무리	86

3 길이 재기

1. m와 cm 단위 사이의 관계	90
2. 받아들림이 없는 길이의 덧셈	94
3. 받아들림이 있는 길이의 덧셈	100
4. 길이의 덧셈	106
5. 받아내림이 없는 길이의 뺄셈	112
6. 받아내림이 있는 길이의 뺄셈	118
7. 길이의 뺄셈	124
8. 길이의 덧셈과 뺄셈	130
연산&문장제 마무리	136

4 시각과 시간

1. 시간과 분 사이의 관계	140
2. 하루의 시간 알아보기	144
3. 1주일 알아보기	148
4. 1년 알아보기	152
연산&문장제 마무리	156

5 규칙 찾기

1. 덧셈표에서 규칙 찾기	160
2. 곱셈표에서 규칙 찾기	164
연산 마무리	168

함께 공부할 친구들

난 가르치기 좋아하는
똑똑한 다람쥐야.



란란

난 뭐든지 처음이라
재미있는 펭귄이야.



올리

난 선생님이 되고
싶은 토끼야.



총총이



난 공부도 운동도
모두 즐기는 고양이야.

냥냥



난 먹는 것만큼 공부를
좋아하는 햄스터야.

햄찌



난 모든 일에 끈기 있는
모범생 곰이야.

꼬미



1

네 자리 수




학습 주제	학습 일 차	맞힌 개수
1. 천, 몇천 알아보기	01일차	/26
	02일차	/16
2. 네 자리 수 알아보기	03일차	/26
	04일차	/15
3. 각 자리의 숫자가 나타내는 값 알아보기	05일차	/16
	06일차	/35
4. 뛰어 세기	07일차	/26
	08일차	/26
	09일차	/16
5. 두 수의 크기 비교	10일차	/40
	11일차	/25
6. 세 수의 크기 비교	12일차	/26
	13일차	/18
연산&문장제 마무리	14일차	/35



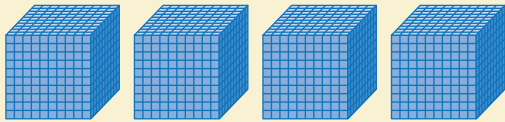
01 일차

1. 천, 몇천 알아보기



100이 10개인 수

쓰기 1000 읽기 천



1000이 4개인 수

쓰기 4000 읽기 사천

□ 안에 알맞은 수나 말을 써넣으세요.

1 990보다 10만큼 더 큰 수는 1000이고, □이라고 읽습니다.

2 1000이 3개인 수는 □입니다.



1000이 ★개인 수는 ★000이에요!

3 1000이 6개인 수는 □입니다.

4 □은 999보다 1만큼 더 큰 수입니다.

5 995보다 5만큼 더 큰 수는 □입니다.

6 980보다 20만큼 더 큰 수는 □입니다.

7 1000은 900보다 □만큼 더 큰 수입니다.

8 950보다 □만큼 더 큰 수는 1000입니다.

9 100이 □개인 수는 1000이고, □이라고 읽습니다.

10 700보다 300만큼 더 큰 수는 □이고, □이라고 읽습니다.

11 1000이 9개인 수는 □이고, □이라고 읽습니다.

12 8000은 1000이 □개인 수이고, □이라고 읽습니다.



수를 읽어 보세요.

13

2000

읽기 ()

14

6000

읽기 ()

15

1000

읽기 ()

16

7000

읽기 ()

17

8000

읽기 ()

18

4000

읽기 ()

19

5000

읽기 ()

수를 써 보세요.

20

구천

쓰기 ()

21

육천

쓰기 ()

22

오천

쓰기 ()

23

칠천

쓰기 ()

24

삼천

쓰기 ()

25

사천

쓰기 ()

26

이천

쓰기 ()

맞힌 개수

개 / 26개



나의 학습 결과에 ○표 하세요.

맞힌 개수	0~3개	4~13개	14~23개	24~26개
학습 방법	다시 한번 풀어 봐요.	계산 연습이 필요해요.	틀린 문제를 확인해요.	실수하지 않도록 집중해요.

QR 빠른정답 확인





02 밀차

1. 천, 몇천 알아보기

알맞은 수를 쓰고 읽어 보세요.

1 997보다 3만큼 더 큰 수

쓰기 _____ 읽기 _____

2 1000이 7개인 수

쓰기 _____ 읽기 _____

3 1000이 2개인 수

쓰기 _____ 읽기 _____

4 960보다 40만큼 더 큰 수

쓰기 _____ 읽기 _____


5 1000이 5개인 수

쓰기 _____ 읽기 _____


6 800보다 200만큼 더 큰 수

쓰기 _____ 읽기 _____


수 모형이 나타내는 수를 쓰고 읽어 보세요.

7 

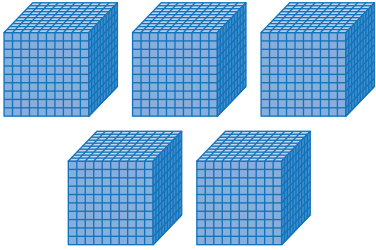
쓰기 _____ 읽기 _____

8 


쓰기 _____ 읽기 _____

9 

쓰기 _____ 읽기 _____

10 

쓰기 _____ 읽기 _____

11 

쓰기 _____ 읽기 _____



연산 in 문장제


색종이가 1000장씩 5묶음 있습니다. 색종이는 모두 몇 장인지 구해 보세요.

1000장씩 5묶음이면 5000장

↑ ↑ ↑


한 묶음에 있는 색종이 전체

색종이 수 묶음 수 색종이 수



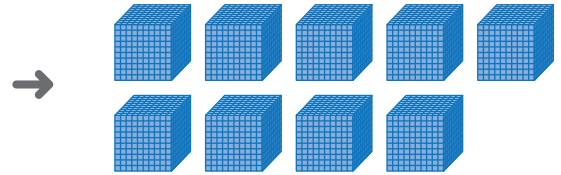
- 12 서진이는 1000원짜리 지폐 4장을 가지고 있습니다. 서진이가 가지고 있는 돈은 모두 얼마인지 구해 보세요.

답 _____



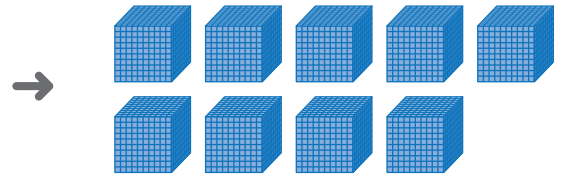
- 13 구슬이 한 바구니에 1000개씩 들어 있습니다. 7바구니에 들어 있는 구슬은 모두 몇 개인지 구해 보세요.

답 _____




- 14 딱지가 한 상자에 1000개씩 들어 있습니다. 3상자에 들어 있는 딱지는 모두 몇 개인지 구해 보세요.

답 _____




- 15 꿀 농장에서 하루에 꿀을 1000개씩 따내고 합니다. 꿀 농장에서 6일 동안 딴 꿀은 모두 몇 개인지 구해 보세요.

답 _____



- 16 콩이 한 자루에 1000개씩 들어 있습니다. 9자루에 들어 있는 콩은 모두 몇 개인지 구해 보세요.

답 _____



맞힌 개수

개 / 16개



나의 학습 결과에 ○표 하세요.

맞힌 개수	0~2개	3~8개	9~14개	15~16개
학습 방법	다시 한번 풀어 봐요.	계산 연습이 필요해요.	틀린 문제를 확인해요.	실수하지 않도록 집중해요.

QR 빠른정답 확인





03 일차

2. 네 자리 수 알아보기

천 모형	백 모형	십 모형	일 모형
10000이 2개	1000이 3개	100이 6개	1이 7개

쓰기 2367 읽기 이천삼백육십칠



10000이 ●개, 1000이 ★개,
100이 ■개, 10이 ▲개인 수는
●★▲예요.

🥕 안에 알맞은 수를 써넣으세요.

1 10000이 3개
1000이 4개
100이 8개
1이 2개

2 10000이 1개
1000이 7개
100이 5개
1이 2개

3 10000이 6개
1000이 3개
100이 4개
1이 9개

4 10000이 4개
1000이 8개
100이 7개
1이 3개

5 10000이 5개
1000이 1개
100이 6개
1이 4개

6 10000이 1개
1000이 3개
100이 5개
1이 7개

7 10000이 8개
1000이 6개
100이 4개
1이 1개

8 10000이 3개
1000이 0개
100이 5개
1이 4개

9 10000이 7개
1000이 9개
100이 0개
1이 3개

10 10000이 9개
1000이 8개
100이 5개
1이 0개

11 10000이 5개
1000이 7개
100이 3개
1이 4개

12 10000이 2개
1000이 4개
100이 0개
1이 8개



04 일차

2. 네 자리 수 알아보기

알맞은 수를 쓰고 읽어 보세요.

1 1000이 6개, 100이 9개,
10이 8개, 1이 3개인 수

쓰기 _____

읽기 _____

2 1000이 8개, 100이 6개,
10이 1개, 1이 2개인 수

쓰기 _____

읽기 _____

3 1000이 9개, 100이 7개,
10이 3개, 1이 9개인 수

쓰기 _____

읽기 _____

4 1000이 5개, 100이 2개,
10이 6개인 수

쓰기 _____

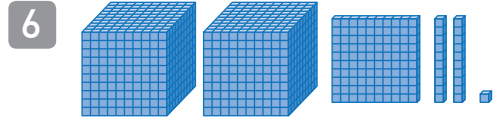
읽기 _____

5 1000이 7개, 10이 8개,
1이 6개인 수

쓰기 _____


읽기 _____

수 모형이 나타내는 수를 쓰고 읽어 보세요.




쓰기 _____

읽기 _____




쓰기 _____

읽기 _____




쓰기 _____

읽기 _____



쓰기 _____

읽기 _____



쓰기 _____

읽기 _____



연산 in 문장제

놀이공원에 입장한 사람 수를 세어 보니 1000명씩 6번, 100명씩 2번, 10명씩 5번, 1명씩 3번이었습니다. 놀이공원에 입장한 사람은 모두 몇 명인지 구해 보세요.

1000이 6개, 100이 2개, 10이 5개, 1이 3개인 수는 6253(명)
 ↑ ↑ ↑ ↑ ↑
 1000의 개수 100의 개수 10의 개수 1의 개수 놀이공원에 입장한 사람 수

1000	6개
100	2개
10	5개
1	3개

- 11 성현이는 학용품을 사면서 천 원짜리 지폐 4장, 백 원짜리 동전 6개, 십 원짜리 동전 5개를 냈습니다. 성현이가 낸 돈은 모두 얼마인지 구해 보세요.

답 _____



1000	개
100	개
10	개
1	개

- 12 산에 있는 나무를 세어 보니 1000그루씩 2번, 100그루씩 7번, 10그루씩 5번, 1그루씩 8번이었습니다. 산에 있는 나무는 모두 몇 그루인지 구해 보세요.

답 _____



1000	개
100	개
10	개
1	개

- 13 문구점에 색연필이 1000자루씩 1묶음, 100자루씩 8묶음, 10자루씩 9묶음 있습니다. 문구점에 있는 색연필은 모두 몇 자루인지 구해 보세요.

답 _____



1000	개
100	개
10	개
1	개

- 14 공장에서 인형을 1000개씩 5상자, 100개씩 8상자, 10개씩 2상자로 포장하였더니 1개가 남았습니다. 인형은 모두 몇 개인지 구해 보세요.

답 _____



1000	개
100	개
10	개
1	개

- 15 농장에서 올해 수확한 고구마는 1000개씩 3상자, 100개씩 2상자, 1개씩 6개입니다. 농장에서 올해 수확한 고구마는 모두 몇 개인지 구해 보세요.

답 _____



1000	개
100	개
10	개
1	개

맞힌 개수

개 / 15개



나의 학습 결과에 ○표 하세요.

맞힌 개수	0~2개	3~7개	8~13개	14~15개
학습 방법	다시 한번 풀어 봐요.	계산 연습이 필요해요.	틀린 문제를 확인해요.	실수하지 않도록 집중해요.

QR 빠른정답 확인

